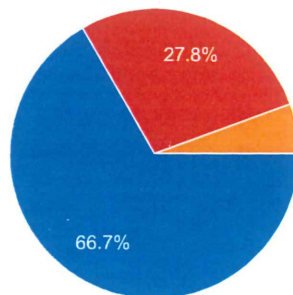


「問1 次の根号がついた数について、根号の中の数をできる限り小さい数、または、整数にせよ。」の結果を答えて下さい。

18 件の回答

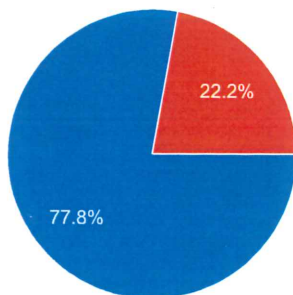


- 全問正解しました。(これは凄い!)
- 1つ~4つ間違えました。(まあまあ)
- 5つ~8つ間違えました。(もう少し)
- 9つ以上間違えました。(夕方に出す解説を読んでね。)



「問2 次の数の平方根を求めよ。」の結果を答えて下さい。

18 件の回答

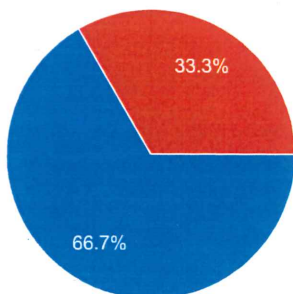


- 全問正解しました。(いいぞ!)
- 1つ間違えました。(おしいね)
- 2つ間違えました。(もう少し)
- 3、4つ間違えました。(夕方に出す解説を読んでね。)



「問3 次の計算をせよ。」の結果を答えて下さい。

18 件の回答

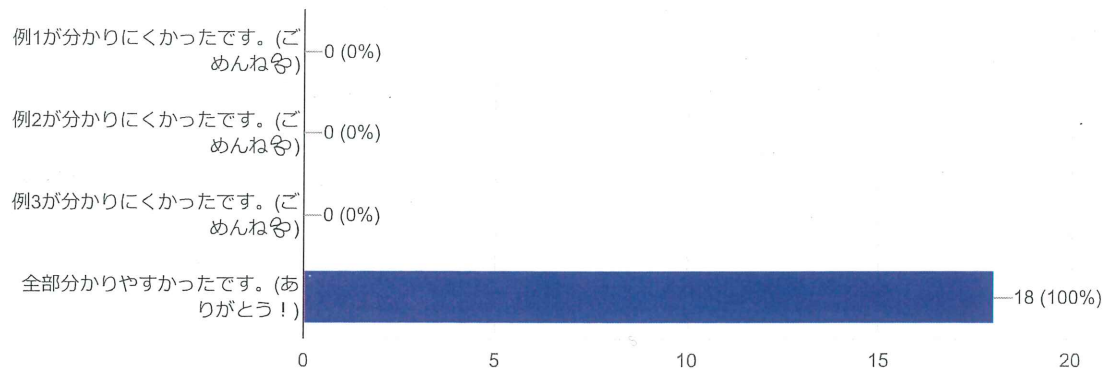


- 全問正解しました。(やるね!)
- 1、2つ間違えました。(まあまあ)
- 3、4つ間違えました。(もう少し)
- 5、6つ間違えました。(夕方に出す解説を読んでね。)

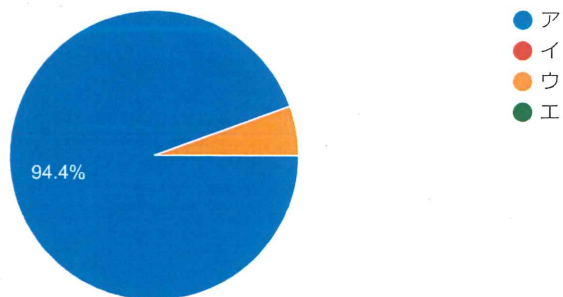


例1～例3について(複数回答可)

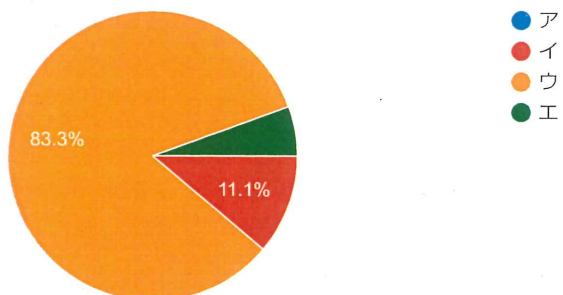
18件の回答



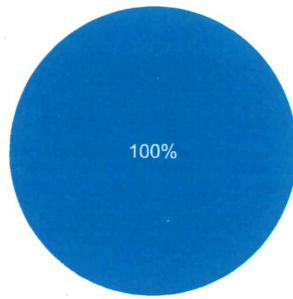
18件の回答



18件の回答



18 件の回答



- ア
- イ
- ウ
- エ

